











Vamos ao supermercado

Com a ajuda do teu professor, vai até ao supermercado e anota os vários preços dos alimentos que constam da lista.

	Preço mais caro	Preço mais barato		Preço mais caro	Preço mais barato
 1l de leite	<input type="text"/> €	<input type="text"/> €	 1kg de batatas	<input type="text"/> €	<input type="text"/> €
 1kg de arroz	<input type="text"/> €	<input type="text"/> €	 0,5 kg de esparguete	<input type="text"/> €	<input type="text"/> €
 1kg maçãs	<input type="text"/> €	<input type="text"/> €	 1 pacote bolachas	<input type="text"/> €	<input type="text"/> €
 1 L de azeite	<input type="text"/> €	<input type="text"/> €	 4 iogurtes	<input type="text"/> €	<input type="text"/> €



Calcula o total que gastarias se comprasses apenas os alimentos mais caros e calcula o que gastarias se comprasses a totalidade dos alimentos mais baratos.

Alimentos mais caros

_____ € + _____ € + _____ € + _____ € + _____ €

+ _____ € + _____ € + _____ € = Total _____ €

Alimentos mais baratos

_____ € + _____ € + _____ € + _____ € + _____ €

+ _____ € + _____ € + _____ € = Total _____ €



Qual é a diferença entre os dois totais, ou seja quanto pouparias se comprasses os alimentos mais baratos.



Ajuda a Joana com as compras. Cola o valor correto na tabela.





Ajuda a Joana com as compras. Cola o valor correto na tabela.





Recorta as notas e moedas para colares no exercício anterior.

